

時事・常識問題

(1) 「この憲法の改正は、各議院の総議員の三分の二以上の賛成で、国会が、これを発議し、国民に提案してその承認を経なければならない。この承認には、特別の国民投票又は国会の定める選挙の際行はれる投票において、その過半数の賛成を必要とする」。この条文は憲法何条でしょうか。

- ① 6条 ② 9条 ③ 24条 ④ 69条 ⑤ 96条

(2) 憲法の解釈を担当している政府の組織は次のうちどれですか。

- ① 法務省 ② 法務局 ③ 内閣府 ④ 内閣官房 ⑤ 内閣法制局

(3) 日本国内にある米軍施設・区域のうち、沖縄県にある割合は次のうちどれですか。

- ① 32% ② 43% ③ 52% ④ 74% ⑤ 91%

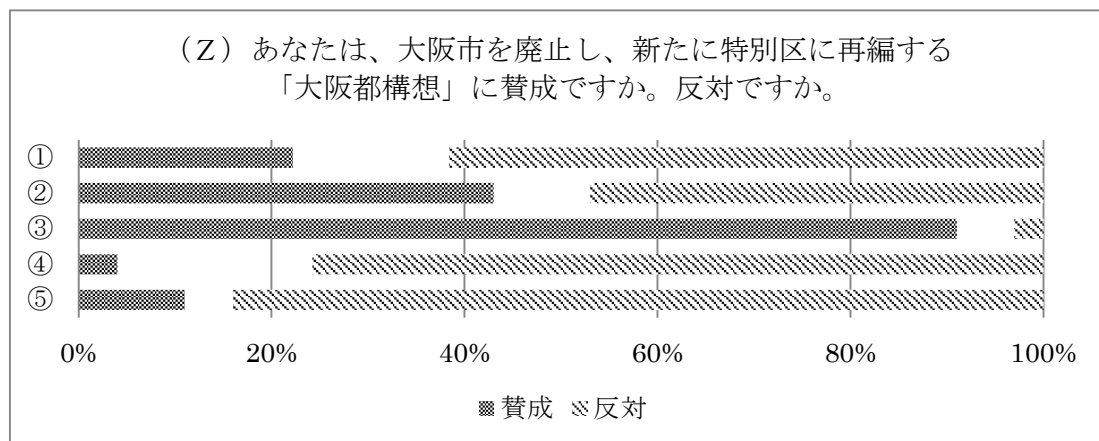
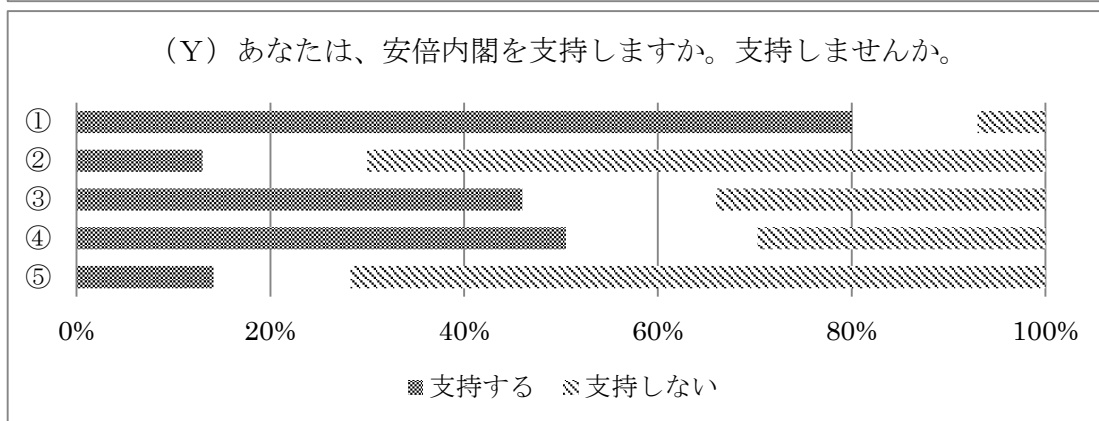
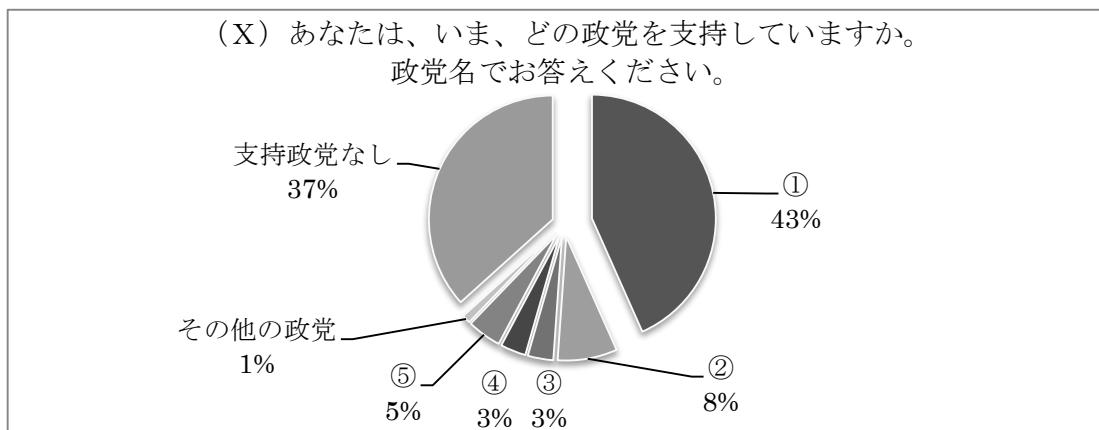
(4) 地方自治法に基づき、議員報酬とは別に、地方議員の政策立案を支援する経費として支給される費用の名称はどれですか。

- ① 地方調査費 ② 政務活動費 ③ 政治資金 ④ 選挙資金 ⑤ 立法事務費

(5) 大阪市を5つの区に分割する、いわゆる「大阪都構想」の住民投票が2015年5月に行われました。その結果で最も適切なものはどれですか。

- ① 賛成が過半数を占め、大阪市が5つの区に分割される。
② 反対が過半数を占め、大阪市が存続する。
③ 賛成が過半数を占めたが、大阪市が存続する。
④ 反対が過半数を占めたが、大阪市が5つの区に分割される。
⑤ 賛成・反対まったく同数で、もう一度住民投票が行われる。

(6) 次の(X)(Y)(Z)は、2015年5月に朝日新聞が行った世論調査の結果を示したものです(「その他」と「答えない」を除く)。(X)(Y)は全国調査、(Z)は大阪市のみでの調査で、(Y)(Z)は各政党の支持層ごとに集計しました。①～⑤には、維新・共産・公明・自民・民主のいずれかが入り、3つの図で同一です。公明党を表しているのは、①～⑤のうちどれですか。



(7) 2014年12月の第47回衆院選で、獲得議席が多い順に正しく並んでいるのはどれですか。

- ① 自民党、民主党、維新の党、公明党、共産党
- ② 自民党、維新の党、民主党、公明党、共産党
- ③ 自民党、民主党、公明党、共産党、維新の党
- ④ 自民党、民主党、共産党、維新の党、公明党
- ⑤ 自民党、公明党、民主党、維新の党、共産党

(8) 歴代首相が就任順に正しく並んでいるのはどれですか。

- ① 安倍晋三－福田康夫－麻生太郎－鳩山由紀夫－菅直人－野田佳彦－安倍晋三
- ② 福田康夫－安倍晋三－麻生太郎－菅直人－鳩山由紀夫－野田佳彦－安倍晋三
- ③ 福田康夫－安倍晋三－麻生太郎－鳩山由紀夫－菅直人－野田佳彦－安倍晋三
- ④ 安倍晋三－麻生太郎－福田康夫－菅直人－鳩山由紀夫－野田佳彦－安倍晋三
- ⑤ 麻生太郎－安倍晋三－福田康夫－菅直人－鳩山由紀夫－野田佳彦－安倍晋三

(9) 経営が悪化した航空会社「スカイマーク」の支援に名乗りを上げ、債権者集会で賛同を競った企業2社の組み合わせで、適切なものは次のうちどれですか。

- ① 日本航空……デルタ航空
- ② ANAホールディングス……デルタ航空
- ③ ANAホールディングス……アメリカン航空
- ④ 日本航空……ユナイテッド航空
- ⑤ エイチ・アイ・エス（HIS）……アメリカン航空

(10) 2015年1月の税制改正で課税対象が拡大したことで、都市部では今後、5人に1人が該当すると試算されている税はどれですか。

- ① 贈与税 ② 不動産取得税 ③ 固定資産税 ④ 相続税 ⑤ 自動車税

(11) 次に挙げる国・地域のうち、アジアインフラ投資銀行（AIIB）の「創始メンバー国」ではないものはどれですか。

- ① ロシア ② 韓国 ③ 中国 ④ 台湾 ⑤ インド

(12) 国の借金に関する次の文章のA～Dに当てはまる数字の組み合わせで正しいものはどれですか。

財務省によると、2014年度末の国の借金の残高は **A** 兆円となり、過去最高を更新した。1年前より **B** 兆円増えた。国民1人あたりでは、**C** 万円の借金を抱えている計算になる。15年度の政府予算でも全体の **D** 割を借金に頼る。借金の残高は今後もふくらむ見込みだ。

- ① A：約353 B：約8 C：約230 D：2
- ② A：約553 B：約18 C：約430 D：3
- ③ A：約1053 B：約28 C：約830 D：4
- ④ A：約1553 B：約38 C：約1030 D：5
- ⑤ A：約2053 B：約48 C：約1530 D：6

(13) 日経平均株価は2015年4月、15年ぶりに2万円台を回復しました。「日経平均が初めて2万円を突破した年」の出来事として、誤っているものはどれですか。

- ① NTT株上場
- ② 国鉄民営化
- ③ 山一証券破綻
- ④ 世界人口50億人到達
- ⑤ 株価暴落の「ブラックマンデー」

(14) 企業などに雇われている人で、労働組合に加入している人の割合(2014年)はどれですか。

- ① 1.5% ② 10.5% ③ 17.5% ④ 37.5% ⑤ 57.5%

(15) 1980年代からの経済の動きを古い順に並べたとき、2番目に来るものはどれですか。

- ① 円高不況
- ② リーマン・ショック
- ③ バブル崩壊
- ④ アジア通貨危機
- ⑤ 黒田日銀総裁による量的金融緩和

(16) 日本政府観光局は2015年1月、2014年に日本を訪れた外国人が過去最多になったと発表しました。その人数は、次のうちどれに最も近いですか。

- ① 300万人 ② 500万人 ③ 1300万人 ④ 2千万人 ⑤ 3千万人

(17) 「インターネット上の自分に関する不都合な情報を消すように要請できる」という考え方を示す言葉で、最も適切なものはどれですか。

- ① 削除できる権利
② 消滅させられる権利
③ 忘れられる権利
④ 知る権利
⑤ 教えられる権利

(18) 次の城郭のうち国宝ではないものはどれですか。

- ① 犬山城 (愛知県)
② 彦根城 (滋賀県)
③ 姫路城 (兵庫県)
④ 松本城 (長野県)
⑤ 松山城 (愛媛県)

(19) 2015年5月、鹿児島県で爆発的な噴火をした火山がある島はどれですか。

- ① 桜島 ② 口永良部島 ③ 沖永良部島 ④ 薩摩硫黄島 ⑤ 諏訪之瀬島

(20) イルカの追い込み漁が海外で問題視されたのを受けて、追い込み漁で捕獲されたイルカの入手を加盟施設に禁じた団体は、次のうちどれですか。

- ① JAXA ② JAVA ③ JAZA ④ JATA ⑤ JADA

(21) 2015年3月、国内の複数の原発が老朽化のため廃炉になると発表されました。廃炉になる原発に含まれていないものはどれですか。

- ① 関西電力・美浜原発1、2号機
② 中国電力・島根原発1号機
③ 日本原子力発電・敦賀原発1号機
④ 九州電力・玄海原発1号機
⑤ 東北電力・女川原発2号機

(22) 2015年4月、官邸の屋上で小型無人飛行機「ドローン」が見つかる事件がありました。偵察、空爆など軍事目的の開発から始まったこの飛行機の名称の由来は次のうちどれですか。

- ① 昆虫を食べる鳥に似ている。
- ② 壁と壁の間の細い道でも入れる。
- ③ ミツバチの雄を意味する。
- ④ 馬の手綱を意味する。
- ⑤ 伸縮自在を意味する。

(23) 次の五つの出来事を発生順に並べたとき、3番目になるのはどれですか。

- ① 沖縄返還
- ② 地下鉄サリン事件
- ③ 男女雇用機会均等法施行
- ④ 東京電力福島第一原発事故
- ⑤ 東京五輪（1回目）

(24) 巨額の建設費に批判が集まっていた新国立競技場について、安倍首相が2015年7月、計画の白紙撤回を表明しました。当初のデザインを設計した建築家ザハ・ハディド氏は、どこの国の出身ですか。

- ① イラク
- ② フランス
- ③ ヨルダン
- ④ 米国
- ⑤ イラン

(25) テニスの4大会すべてで優勝の偉業を成し遂げた日本選手は次のうち誰ですか。

- ① 国枝慎吾
- ② 錦織圭
- ③ 松岡修造
- ④ 佐藤次郎
- ⑤ クルム伊達公子

(26) アジアで初開催となる第9回ラグビーワールドカップ（W杯）日本大会で、全国12の開催地に含まれないものはどこですか。

- ① 埼玉県熊谷市
- ② 愛知県豊田市
- ③ 仙台市
- ④ 岩手県釜石市
- ⑤ 大分県

(27) 2016年リオデジャネイロ五輪で実施されない競技はどれですか。

- ① 近代5種
- ② バスケットボール
- ③ テコンドー
- ④ 野球・ソフトボール
- ⑤ アーチェリー

(28) ヨーロッパ大陸とアフリカ大陸を隔てる海峡はどれですか。

- ① ボスポラス海峡
- ② ドーバー海峡
- ③ マラッカ海峡
- ④ ジブラルタル海峡
- ⑤ カタリーナ海峡

(29) 2015年3月に亡くなったリー・クアンユー氏は、シンガポールの初代首相で「建国の父」と呼ばれました。シンガポールは今年、独立から何周年でしょうか。

- ① 30周年
- ② 40周年
- ③ 50周年
- ④ 60周年
- ⑤ 70周年

(30) 2015年5月の英国総選挙で保守党、労働党の二大政党に次いで、第3党に大躍進した政党はどれですか。

- ① 自民党
- ② スコットランド民族党
- ③ 英国独立党
- ④ ウェールズ民族党
- ⑤ 緑の党

(31) 以下の政権の中心を示す地名で、間違った組み合わせはどれですか。

- ① 日本・永田町
- ② 韓国・青瓦台
- ③ 中国・中南海
- ④ 英国・ダウニング街
- ⑤ ロシア・シンタグマ広場

(32) 第2次世界大戦終結から70年の今年は、他にも様々な出来事の「節目の年」にあたります。以下の説明で、間違っているものはどれですか。

- ① 60年前、日本では、左右に分裂していた社会党が統一。保守勢力も合同して自民党を結成した。
- ② 50年前、14年に及ぶ交渉の末、日本と韓国は国交を正常化させた。
- ③ 40年前、ベトナム戦争が終結した。
- ④ 30年前、ソ連共産党の書記長にエリツィン氏が就任。その後、ペレストロイカ(改革)を進めた。
- ⑤ 20年前、村山富市首相は「植民地支配と侵略によって、アジア諸国の人々に多大の損害と苦痛を与えた」として、「痛切な反省の意」を表す談話を発表した。

(33) 日本政府が「固有の領土」としている北方四島とは、歯舞群島、色丹島、国後島と、もう一つの島の名前は何ですか。

- ① 奥尻島 ② 択捉島 ③ 対馬島 ④ 竹島 ⑤ 魚釣島

(34) 第2次世界大戦中に連合国が開いた会談のうち、ルーズベルト・米大統領、チャーチル・英首相、蒋介石・中国総統が参加し、終戦後の戦略を決めた会談は、次のうちどれですか。

- ① 大西洋会談 ② ポツダム会談 ③ カイロ会談 ④ ヤルタ会談 ⑤ テヘラン会談

(35) 以下のうち、原子力発電所がない県はどれですか。

- ① 石川県 ② 富山県 ③ 新潟県 ④ 鹿児島県 ⑤ 佐賀県

(36) 国際宇宙ステーション(ISS)にこれまで最も長く滞在した日本人宇宙飛行士は誰ですか。

- ① 若田光一 ② 野口聡一 ③ 古川聡 ④ 星出彰彦 ⑤ 油井亀美也

(37) 2014年8月、広島市で発生した土砂災害の原因の一つと考えられている「バックビルディング現象」の説明で最も適切なものはどれですか。

- ① うろこ雲が連続して発生し、大雨をもたらす。
- ② 林立する高層ビルの中で強い風が吹く。
- ③ 積乱雲が連続して発生し、大雨をもたらす。
- ④ 積乱雲が連続して発生し、大雪をもたらす。
- ⑤ 高層ビルの背後で強い風が吹く。

(38) 2015年6月に韓国で急速に広がった「中東呼吸器症候群」(MERS)の感染源とみられているのは次のうちどれですか。

- ① 蚊 ② ヒトコブラクダ ③ 鳥 ④ 豚 ⑤ アフリカゾウ

(39) 20代で数学者として頭角を現し、30代で精神分裂病を発症、闘病しながらも66歳でノーベル経済学賞を受けた数学者が、2015年5月に交通事故で亡くなりました。その半生は映画「ビューティフル・マインド」のモデルになりました。この数学者は次のうち誰ですか。

- ① アルビン・ロス
② ロイド・シャプリー
③ 宇沢弘文
④ ジョン・ナッシュ
⑤ 伊藤清

(40) 地震について説明した以下の文で、空欄に入る言葉の組み合わせとして正しいものはどれですか。

「速く伝わり、小さい揺れを起こす地震の波を 波という。また、遅く伝わり、大きい揺れを起こす地震の波を 波という」

- ① A=微動、B=弾力
② A=弱、B=強
③ A=P、B=S
④ A=微動、B=誇張
⑤ A=B、B=O

(41) 以下の野菜で日本が原産地のものはどれですか。

- ① フキ ② ダイコン ③ サトイモ ④ ハクサイ ⑤ キャベツ

(42) 倒壊の恐れや衛生上の問題がある空き家について、市町村が所有者に撤去を命令できる「空き家対策特別措置法」が2015年5月に全面施行されました。2013年10月時点の住宅総数は約6000万戸でしたが、空き家の戸数で最も近いのは次のうちどれですか。

- ① 52万戸 ② 120万戸 ③ 320万戸 ④ 820万戸 ⑤ 1200万戸

(43) 20歳の学生や40歳の会社員が健康保険制度を使って病院や診療所にかかったとき、原則として自己負担する医療費の割合は次のうちどれですか。

- ① 1割 ② 2割 ③ 3割 ④ 4割 ⑤ 5割

(44) 政府は医療費抑制のために製薬会社の特許が切れた後に開発された「ジェネリック医薬品(後発医薬品)」の利用を呼びかけています。2013年9月時点の普及率(数量ベース)は次のうちどれですか。

- ① 9.8% ② 10.6% ③ 16.7% ④ 46.9% ⑤ 82.5%

(45) 国内で消費する食料のうち、どのくらいを国産でまかなえているかを示す「食料自給率」(カロリーベース)は、2013年度に何%だったでしょうか。

- ① 39% ② 49% ③ 59% ④ 69% ⑤ 79%

(46) 米映画の最高峰を競う2015年第87回アカデミー賞で主演男優賞を受賞したのは次のうち誰ですか。

- ① ベネディクト・カンバーバッチ
② ブラッドリー・クーパー
③ エディ・レッドメイン
④ マイケル・キートン
⑤ スティーブ・カレル

(47) 次に挙げる5人の作家のうち、ノーベル文学賞を受賞した人の組み合わせで正しいものはどれですか。

(ア) 谷崎潤一郎 (イ) 川端康成 (ウ) 安部公房 (エ) 三島由紀夫 (オ) 大江健三郎

- ① (ア) と (イ)
② (イ) と (ウ)
③ (イ) と (オ)
④ (ア) と (エ)
⑤ (エ) と (オ)

(48) 次のA～Cの要素がすべて当てはまる伝統芸能は次のうちどれですか。

A：世界無形文化遺産に選ばれている

B：本拠地は大阪市

C：大阪市からの補助金問題が議論になった

- ① 能 ② 狂言 ③ 歌舞伎 ④ 組踊 ⑤ 人形浄瑠璃文楽

(49) 平安時代の能書家である三筆と三蹟のいずれにも含まれないのは次のうち誰ですか。

- ① 鴨長明 ② 嵯峨天皇 ③ 橘逸勢 ④ 藤原佐理 ⑤ 藤原行成

(50) 「学びて時にこれを習う。またよろこばしからずや」で始まる中国の古典の名前は次のうちどれですか。

- ① 論語 ② 大学 ③ 中庸 ④ 孟子 ⑤ 孫子

(51) 2015年で刊行150周年を迎えた児童文学「不思議の国のアリス」の作者は次のうち誰ですか。

- ① J・K・ローリング
② ルイス・キャロル
③ ディック・ブルーナ
④ トーベ・ヤンソン
⑤ アストリッド・リンドグレン

(52) 次に挙げた作品と、テーマや背景となった戦争の組み合わせが正しいものはどれですか。

- ① 風と共に去りぬ (アメリカ独立戦争)
② 誰がために鐘は鳴る (スペイン内戦)
③ 戦争と平和 (クリミア戦争)
④ 西部戦線異状なし (第2次世界大戦)
⑤ 夏の闇 (朝鮮戦争)

(53) 心臓が1分間に60回拍動するとします。生まれてから22歳の誕生日までに心臓が拍動する回数で最も近いのは、次のうちどれですか。

- ① 6億6千万回
- ② 6億7万回
- ③ 6億8千万回
- ④ 6億9千万回
- ⑤ 7億回

(54) 2015年4月のある店の売上高は、前年同月よりも1割増えました。2014年4月は、前年同月よりも2割減りました。2015年4月の売上高を2013年4月と比較した増減率は次のうちどれですか。

- ① マイナス8%
- ② マイナス10%
- ③ マイナス12%
- ④ プラス8%
- ⑤ プラス10%

(55) 正三十角形の内角の和は、次のうちどれですか。

- ① 4860度
- ② 4950度
- ③ 5040度
- ④ 5130度
- ⑤ 5220度

(56) マラソン大会で1～18番のゼッケンをつけた走者がいます。1位から3位までが入賞となりますが、全員完走したと仮定して、1位から3位の組み合わせは全部で何通りになりますか。ただし同着はないものとします。

- ① 3896通り
- ② 4896通り
- ③ 5896通り
- ④ 6896通り
- ⑤ 7896通り

(57) 2の8乗はいくつですか。

- ① 16 ② 128 ③ 256 ④ 512 ⑤ 1024

(58) 朝日新聞社のC工場では、印刷機A、Bを使って新聞を刷っています。印刷機Aは1時間に12万部、印刷機Bは1時間に8万部の速さで新聞を刷ることができ、2台で毎日合計30万部を発行しています。ある日2台で刷り始めから30分で印刷機Bが故障したため、残りの部数は印刷機Aのみで刷ることになりました。このとき印刷終了時刻は予定より何分遅れますか。

- ① 10分
② 30分
③ 40分
④ 90分
⑤ 100分

(59) タクシーに乗りました。最初の1.8kmまでの料金は720円です。1.8kmを超えると同時に80円加算され、その後は370mごとに80円が加算されます。このタクシーで5km走ったときの料金はいくらですか。

- ① 1320円
② 1360円
③ 1400円
④ 1440円
⑤ 1480円

(60) ある仕事を終わらせるのにAさんは6日、Bさんは12日、Cさんは8日かかります。3人で協力すると何日目です仕事が終わりますか。

- ① 2日目
② 3日目
③ 4日目
④ 5日目
⑤ 6日目

(61) 次の説明や数え方で、誤っているものはどれですか。

- ① 「一周忌」は死後満1年の忌日だが、「三回忌」は慣行により「満2年」の忌日を指す。
- ② 2011年に優勝した後は予選敗退が続き、2014年に3年ぶりに優勝した。
- ③ 9月上旬が締め切りですので、9月15日までをお願いします。
- ④ 「数え年」とは生まれた日に1歳とし、以後元日に1歳を加えて数える年齢のこと。
- ⑤ 2011年10月から2014年8月まで、足かけ4年かかりました。

(62) 現代仮名遣いとして誤っている表記はどれですか。

- ① 王子=おおじ
- ② 通る=とおる
- ③ 大きい=おおきい
- ④ 扇=おうぎ
- ⑤ 放る=ほうる

(63) 各グループから順に一つずつ選んで、広く知られる俳句を完成させたものはどれですか。

Aグループ	Bグループ	Cグループ
イ 降る雪や	へ 山ほととぎす	ル おらが春
ロ 目には青葉	ト 小さき人に	ヲ はつ鯉
ハ 董程な	チ 唇寒し	ワ 秋の風
ニ 目出度さも	リ 明治は遠く	カ なりにけり
ホ 物いへば	ヌ ちう位也	ヨ 生れたし

- ① イ→チ→ル
- ② ロ→リ→カ
- ③ ハ→ト→カ
- ④ ニ→へ→ヲ
- ⑤ ホ→チ→ワ

(64) 長寿の祝いを若い順に並べたとき3番目になるのはどれですか。

- ① 白寿 ② 傘寿 ③ 古希 ④ 喜寿 ⑤ 米寿

(65) 次のことわざの組み合わせのうち、左右で意味が違うものはどれですか。

- ① 塵も積もれば山となる……雨垂れ石を穿つ
- ② 河童の川流れ……上手の手から水が漏れる
- ③ 瓜の蔓に茄子はならぬ……鳶が鷹を生む
- ④ 虻蜂取らず……二兎を追う者は一兎をも得ず
- ⑤ 机上の空論……畳の上の水練

(66) 以下の□を埋めるために使わない漢字はどれですか。

□天井……天井知らず

□の他人……まったくの他人

□を切る……知らないふりをする

くちばしが□色い……年が若くて未熟なこと

- ① 白 ② 黒 ③ 赤 ④ 青 ⑤ 黄

(67) 次のうち、擬態語はどれですか。

- ① ますます ② じろじろ ③ ざあざあ ④ ゆめゆめ ⑤ がやがや

(68) 次の五つの四字熟語には、漢字の誤りが合わせて何文字ありますか。

温古知新 一陽来復 百花両覧 一年発起 意味慎重

- ① 3文字 ② 4文字 ③ 5文字 ④ 6文字 ⑤ 7文字

(69) 次のうち、言葉の使い方が最もふさわしいものはどれですか。

- ① 先走りしすぎた部下をいさめた。
- ② まなじりを決して戦う。
- ③ 彼の悪事は明るみになった。
- ④ 姉に負けずとも劣らない出来だった。
- ⑤ 足元もおぼつかず、ふらふらと帰った。

(70) (ア) ~ (オ) の下線部のうち、同じ漢字を使う組み合わせはどれですか。

(ア) きみの話にはセイゴウ性がない。

(イ) 展覧会はセイキョウのうちに終わった。

(ウ) この時計はセイコウなつくりをしている

(エ) 過去をセイサンして再出発する。

(オ) セイコン尽き果てた。

- ① アとウ ② ウとオ ③ イとエ ④ エとオ ⑤ アとイ

(71) 次のうち、鳥はどれですか。

- ① 万年青
② 信天翁
③ 木乃伊
④ 仙人掌
⑤ 百日紅

(72) 次の文のうち、適切な表現はどれですか。

- ① 適切な対応が奏を功した。
② 上を下への大騒ぎだった。
③ 前回大会の雪辱を晴らす。
④ 寸暇を惜しまず勉強する。
⑤ 気が置ける友と食事する。

(73) 次の漢字のうち、他と部首が異なるものはどれですか。

- ① 思 ② 情 ③ 考 ④ 慕 ⑤ 恥

(74) 次の下線部の漢字の読み方のうち、一つだけ異なるものはどれですか。

- ① 居丈高
② 気丈
③ 頑丈
④ 波瀾万丈
⑤ 丈夫

(75) 次の言葉と意味の組み合わせのうち、誤っているものはどれですか。

- ① 水をさす……うまくいっているのに邪魔をして不調にする。
- ② 敵に塩を送る……苦境にある敵を助ける。
- ③ 琴線にふれる……目上の人のお気持ちに逆らって怒りを買う。
- ④ 故郷に錦を飾る……立身出世をして故郷に帰る。
- ⑤ 目に物見せる……ひどい目にあわせて、思い知らせる。

(76) 漢字の読み方が誤っているものはどれですか。

- ① 帰趨 きすう
- ② 行脚 あんげ
- ③ 惹起 じゃっき
- ④ 忽然 こつぜん
- ⑤ 焦眉 しょうび

(77) 下線部が同じ漢字の文章はどれですか。

- ① ホウガン紙にホウガン投げのイラストを描いた。
- ② ソウネンになってからあこがれの土地にベッソウを建てる。
- ③ ナンパ船から見つかった荷物はハカクの値段で取引される。
- ④ 中世のジョジョウシのジョショウから読み始めることにした。
- ⑤ ゴタクを並べるよりも、ゴジダツジに注意して論文を作成する。

(78) 次の慣用句の説明のうち、誤っているものはどれですか。

- ① 汗水を流す……一生懸命に働く
- ② 尻馬に乗る……付和雷同する
- ③ 二つ返事……ためらわずすぐに承諾する
- ④ 油を絞る……厳しく叱る
- ⑤ 秋波を送る……冷たい目で見る

(79) 漢字の使い方が正しい文はどれですか。

- ① 新興宗教の教組を崇拝していた。
- ② 国家首席と胸襟を開いて会談する。
- ③ 決戦投票の末に東京が五輪開催都市となった。
- ④ 不祥事の前後策を速やかに講じる。
- ⑤ 農家への戸別所得補償制度が主な論点だった。

(80) 以下の文章は、2015年5月10日付朝日新聞朝刊の「天声人語」を並べ替えたものです。適切な順番のものはどれですか。

(ア) 若い頃、2時間ばかりで酢豚をこしらえて、友人にふるまった。初めてなのに上手にできたのが不思議だったが、母が実家の台所で作る手順を見ていたおかげだと気づき、得心がいった――

(イ) おじさんらが最初に取り組むのは肉野菜炒めだ。作品に登場する数々のレシピを考えた鈴木さんは、初心者でも「つくれた！」という自信が持てるように、との思いを込めたという

(ウ) 料理をし、食べることは生きる力を身につけること。そんなメッセージがさすがしく伝わってくる。子ども料理研究家の鈴木真由美さんの教室に何度も足を運び、主人公を描き出すヒントをもらったという

(エ) 掲載誌の主な読者は40代以上だそうだが、小中学生や大学生にも読者がいる。若い世代の食生活が荒れるのを案じる学校の先生方が薦めてくれている。描いたかいがありました、と魚戸さんはうれしそうだ

(オ) 大人の男たちよ、台所に立とう。物語を通じ作者は呼びかける。作中の頑固な老人が、妻の急病でやむなく包丁を握る。三度の飯を自分で賄えないのなら「自立した大人」とはいえないと悟り、主人公に男向けの教室を開いてもらう

(カ) 漫画家の魚戸（うおと）おさむさん（58）は懐かしそうに話した。「食卓の崩壊」などと言われる現状に危機感を抱き、食の大切さを熱心に説いてきた作者だ。このほど連載が終わった『ひよっこ料理人』は、子ども料理教室の先生今田妃代子（ひよこ）が主人公。子どもの学びを通じ、周りの大人たちも食の喜びに目覚めていく物語だ

- ① (ア) → (カ) → (オ) → (イ) → (エ) → (ウ)
- ② (ア) → (ウ) → (カ) → (エ) → (イ) → (オ)
- ③ (ア) → (ウ) → (イ) → (エ) → (カ) → (オ)
- ④ (ア) → (カ) → (エ) → (オ) → (イ) → (ウ)
- ⑤ (ア) → (カ) → (ウ) → (オ) → (イ) → (エ)

英語問題

I 次の文章を読んで、下記の質問に答えてください。

Tokyo's Shibuya Ward recently proposed a policy to accept sexual minorities and respect their human rights. The ward is planning to issue certificates to same-sex couples to acknowledge their relations as "equivalent (a) marriage." The ward's objective is to create a society where (b) is honored and respected.

This is a pioneering undertaking. While the certificates will not legalize same-sex unions, they will certainly contribute greatly to changing people's perceptions about discrimination and prejudice based on someone's sexual orientation.

Same-sex marriage is being legalized in a growing number of countries around the world. Article 24 of the Japanese Constitution states, "Marriage shall be based only on the mutual consent of both sexes." But this can also be interpreted to mean that the Constitution does not (c) so far as to prohibit same-sex marriages. The matter is open to further debate.

(The Asahi Shimbun AJW: Feb. 13, 2015)

(81) 文中の (a) に入る最も適切な言葉はどれですか。

- ① at
- ② by
- ③ in
- ④ of
- ⑤ to

(82) 文中の (b) に入る最も適切な言葉はどれですか。

- ① conformity
- ② diversity
- ③ obedience
- ④ tradition
- ⑤ uniformity

(8 3) 文中の (c) に入る最も適切な言葉はどれですか。

- ① come
- ② go
- ③ swim
- ④ travel
- ⑤ walk

(8 4) 本文の内容に合わないものはどれですか。

- ① 渋谷区の証明書は、同性カップルを「結婚に相当する関係」と認める。
- ② 証明書に法律上の効果はない。
- ③ 同性婚を認める国は増えている。
- ④ 日本国憲法 2 4 条は、婚姻は「両性」の合意のみに基づいて成立すると規定する。
- ⑤ 日本国憲法 2 4 条は、明確に同性婚を禁止している。

II 次の文章を読んで、下記の質問に答えてください。

Prime Minister Shinzo Abe apologized for being rude in a debate in the Diet on May 28.

“Ask the question already!” Abe barked at Kiyomi Tsujimoto as she spoke about the proposed national (a) legislation.

The heckle, fired off in a harsh and hostile tone, caused the debate to momentarily grind to a halt.

Lawmakers had started discussing the (b) bills at a Lower House special committee the previous day. The legislation would greatly expand the range of overseas missions conducted by the Self-Defense Forces.

Abe interrupted Tsujimoto after the Democratic Party of Japan lawmaker had been talking for three minutes or so. She was raising the possibility of Japan becoming a target of terrorist attacks and the SDF suffering casualties (c) a result of conducting mine-sweeping operations overseas under the proposed legislation.

Later, when the DPJ's Rintaro Ogata questioned Abe's actions, the prime minister replied: "I suggested (d) hurry up and ask the question because going on and on about her opinion even when her time is up means that she is not giving (e) the time to reply. But I would like to apologize if I sounded a little harsh."

Ironically, on May 27, the first day of the debate under the committee, Abe had condemned heckling from opposition parties.

"I would like you all to stop obstructing the debate. Were you not taught so in school?" he said.

DPJ Secretary-General Yukio Edano was highly critical of Abe's interruption, saying: "He himself said 'heckling is rude' just yesterday. I want to question him (f) a person, putting aside him being a prime minister and politician."

This is not the first time Abe has apologized for heckling.

During a Diet session in February, he shouted out: "What about Nikkyoso? Nikkyoso!"

A DPJ lawmaker at the time was questioning then farm minister Koya Nishikawa over a donation he received from a company linked to the sugar industry.

Abe apparently said this in reference to the fact that the DPJ is supported by Nikkyoso (Japan Teacher's Union).

(The Asahi Shimbun AJW: May 29, 2015)

(8 5) 文中の (a) と (b) には同じ言葉が入ります。最も適切なものはどれですか。

- ① environment
- ② economy
- ③ security
- ④ labor
- ⑤ police

(8 6) 文中の (c) と (f) には同じ言葉が入ります。最も適切なものはどれですか。

- ① at
- ② as
- ③ by
- ④ on
- ⑤ to

(87) 文中の(d)と(e)の組み合わせとして最も適切なものはどれですか。

- ① she-her
- ② we-us
- ③ she-us
- ④ we-her
- ⑤ you-you

(88) 本文の内容に合わないものはどれですか。

- ① 安倍首相のやじで審議は一時ストップした。
- ② 辻元議員は新たな安保法制で自衛隊に犠牲が出る可能性を指摘した。
- ③ 安倍首相が野党議員をやじったのは初めてだ。
- ④ 安倍首相も前日にやじを受けていた。
- ⑤ 安倍首相は民主党と日教組の関係に批判的なようだ。

Ⅲ 次の文章を読んで、下記の質問に答えてください。

Sadly, there was no zing in the April 12 unified local elections in Japan. The average voter turnout for the 10 gubernatorial elections and 41 prefectural assembly elections was under 50 percent, the lowest in the postwar era. Democracy is in crisis, and there is (a) light at the end of the tunnel.

In the prefectural assembly elections, a record 207 women were voted in, up 27 from the last time. But women still account for only 9 percent of the total. The cracks in Japan's glass (b) are far too few.

In France, prefectural assembly elections were held in March under a new system that requires every candidate to choose a running mate of the opposite sex.

This is an ambitious attempt to ensure that (c) numbers of men and women are represented among those elected to positions of political influence.

(The Asahi Shimbun AJW: April 14, 2015)

(8 9) 文中の (a) に入る最も適切なものはどれですか。

- ① bright
- ② flash
- ③ no
- ④ traffic
- ⑤ warm

(9 0) 文中の (b) に入る最も適切なものはどれですか。

- ① bottle
- ② ceiling
- ③ door
- ④ floor
- ⑤ window

(9 1) 文中の (c) に入る最も適切なものはどれですか。

- ① equal
- ② different
- ③ limited
- ④ odd
- ⑤ small

(9 2) 本文の内容に合わないものはどれですか。

- ① 1 0 の知事選や 4 1 の道府県議選の平均投票率は 5 割を切った。
- ② 1 0 の知事選や 4 1 の道府県議選の平均投票率は戦後最低だった。
- ③ 4 1 の道府県議選では、前回より 2 7 人多い 2 0 7 人の女性が当選した。
- ④ 4 1 の道府県議選では、女性の当選者数は過去最少だった。
- ⑤ 3 月のフランス県議選では、候補者は男女ペアで立候補した。

IV 文中の(93)～(100)を埋めるのに最も適切なものはどれですか。

Since Kagoshima announced the arrival of the flowering season March 21, the “sakura front” has steadily pushed its way (93) across much of the archipelago.

- ① east ② west ③ south ④ north ⑤ down

Ichiro Suzuki hit another milestone April 25 when he scored his 1,968th career (94) to surpass Sadaharu Oh as Japan’s most prolific run scorer.

- ① catch ② run ③ steal ④ throw ⑤ win

The agency recorded 10 quakes while (95) continued crustal movement on the mountain.

- ① objecting ② obstructing ③ obtaining ④ obeying ⑤ observing

The red carpet treatment for Abe reflects Washington’s high (96) of his efforts to reach the agreement.

- ① annoyance ② appeal ③ anger ④ appraisal ⑤ arrogance

The figure-skating sensation showed up with his gold medal (97) from his neck.

- ① sinking ② chasing ③ hanging ④ lying ⑤ escaping

Last year’s Nobel Prize in Physics was (98) to three Japan-born scientists who contributed to the world by developing the blue LED, considered the most difficult color to get.

- ① rejected ② transformed ③ awarded ④ canceled ⑤ promised

The ruling coalition and opposition parties have (99) an agreement on the draft of the revised bill.

- ① falsified ② bought ③ contacted ④ arrived ⑤ reached

“It is suspected that investigative agencies (100) key evidence,” Presiding Judge Hiroaki Murayama said.

- ① confiscated ② fabricated ③ found ④ instructed ⑤ treated

(The Asahi Shimbun AJW, Asahi Weekly より出題)